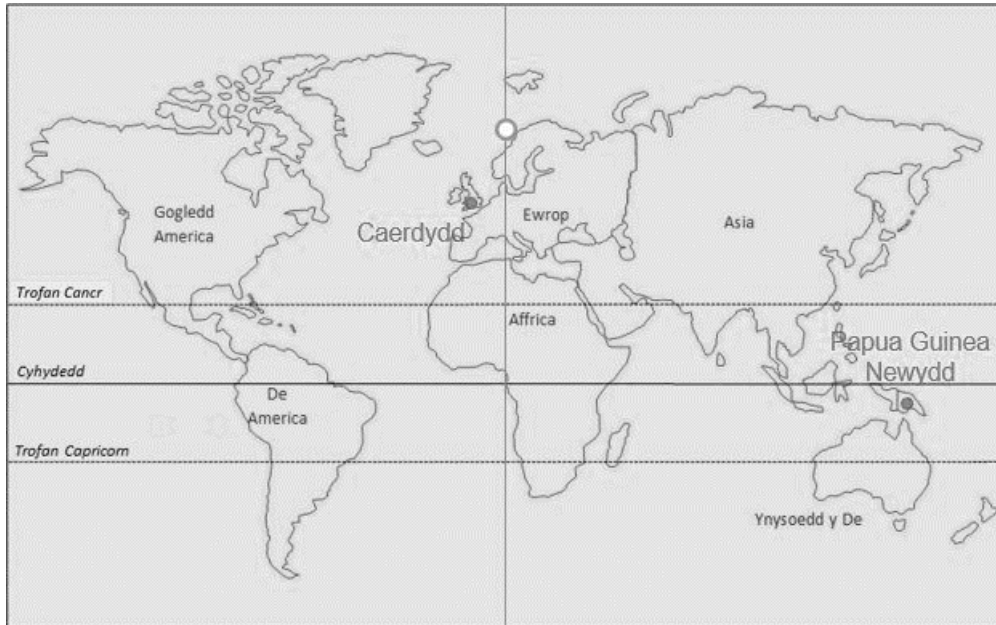


## Cymharu hinsoddau Papua Guinea Newydd â Chaerdydd

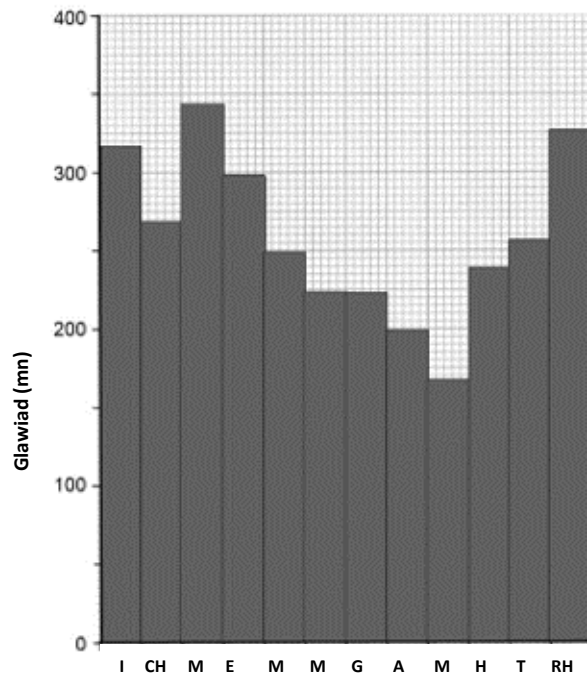
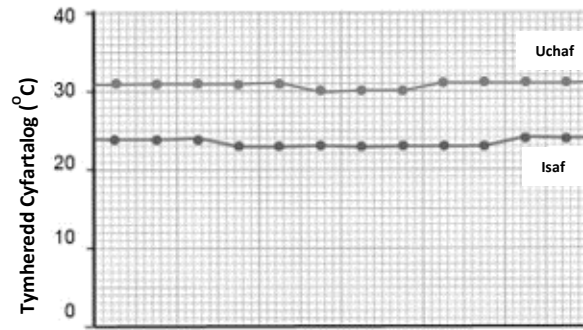


Astudiwch y graffiau hinsawdd ar gyfer Papua Guinea Newydd ac ar gyfer Caerdydd a phenderfynwch os yw'r datganiadau yn gywir neu'n anghywir.

	Cywir	Anghywir
1 Mae tymheredd uchaf Papua Guinea Newydd bob amser yn uwch na thymheredd uchaf Caerdydd.		
2 Nid yw tymheredd isaf Papua Guinea Newydd bob amser yn uwch na thymheredd isaf Caerdydd.		
3 Nid oes gan Papua Guinea Newydd na Chaerdydd 'dymor sych'.		
4 Mae glawiad blynyddol Papua Guinea Newydd tua 4 gwaith yn fwy na glawiad blynyddol Caerdydd.		
5 Bydd cyfanswm y glawiad yn cynyddu wrth i'r tymheredd godi yn Papua Guinea Newydd a Chaerdydd.		
Ychwanegwch eich datganiadau chi yn y rhesi isod.		
6		
7		
8		
9		

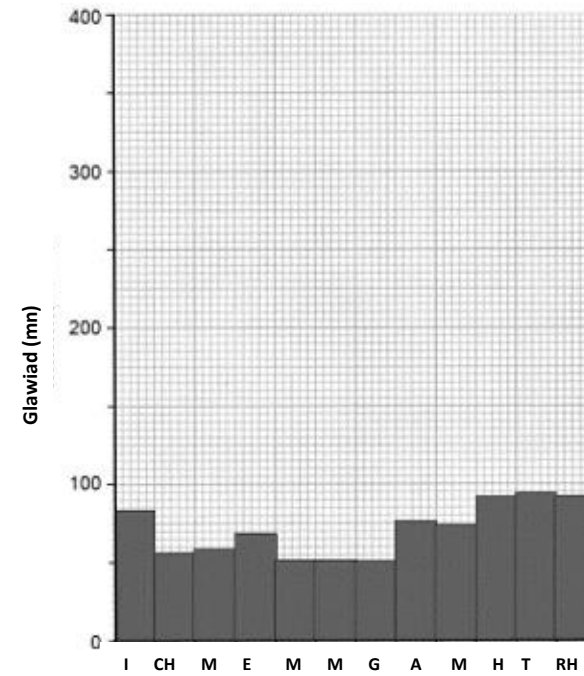
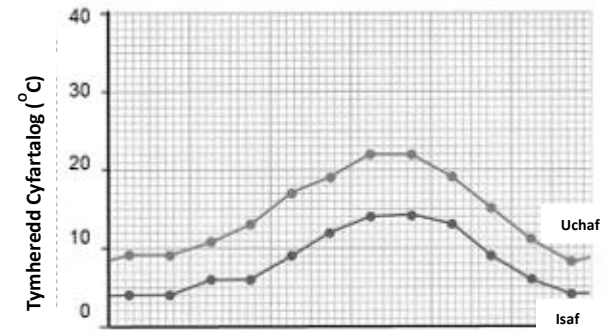
# Daearyddiaeth TGAU

Graff hinsawdd ar gyfer Papua Guinea Newydd (6°De)



Misoedd

Graff hinsawdd ar gyfer Caerdydd (51°G)



Misoedd

## Cymharu hinsoddau Papua Guinea Newydd â Chaerdydd

	Cywir	Anghywir
1 Mae tymheredd uchaf Papua Guinea Newydd bob amser yn uwch na thymheredd uchaf Caerdydd.	<input checked="" type="checkbox"/>	
2 Nid yw tymheredd isaf Papua Guinea Newydd bob amser yn uwch na thymheredd isaf Caerdydd.		<input checked="" type="checkbox"/>
3 Nid oes gan Papua Guinea Newydd na Chaerdydd 'dymor sych'. <i>Er bod gan Papua Guinea Newydd dymor 'sychach' mae'r glawiad yno'n parhau i fod yn uchel. Nid oes tymor 'sychach' penodol yng Nghaerdydd.</i>	<input checked="" type="checkbox"/>	
4 Mae glawiad blynyddol Papua Guinea Newydd tua 4 gwaith yn fwy na glawiad blynyddol Caerdydd. <i>Bydd Papua Guinea Newydd yn derbyn 3,109mm o law'r flwyddyn. Mae Caerdydd yn derbyn 847mm y flwyddyn sydd ychydig llai na 4 gwaith cyfanswm Papua Guinea Newydd.</i>	<input checked="" type="checkbox"/>	
5 Bydd cyfanswm y glawiad yn cynyddu wrth i'r tymheredd godi yn Papua Guinea Newydd a Chaerdydd. <i>Nid yw'r glawiad yn cynyddu gyda'r tymheredd bob tro yn y ddau leoliad.</i>		<input checked="" type="checkbox"/>
Ychwanegwch eich datganiadau chi yn y rhesi isod.		
6		
7		
8		
9		
10		